

ゆっくりていねいに学べる 算数教科書支援ワーク 3-②

下記のページに不備がありました。お詫びして訂正させていただきます。 喜楽研

P51 問題

問題の図の点線が読み取りづらいものになっていました。

点線をはっきりと見やすくした差し替え用ワークシートを、添付のとおり準備いたしました。

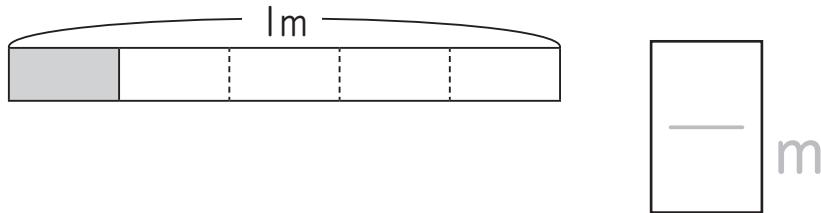
こちらをご利用ください。

ぶんすう (2)

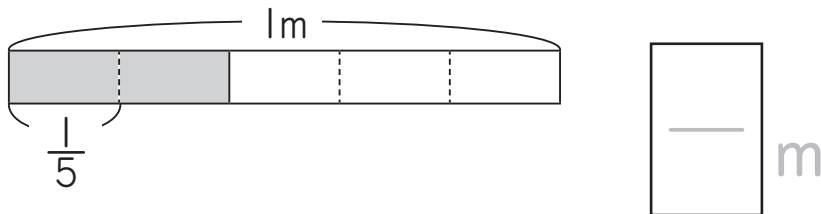
		名前
月	日	

● いろ色をぬったところのながさは何 m ですか。

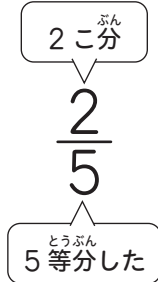
① 1m を 5 等分した 1 分の長さ



② 1m を 5 等分した 2 分の長さ

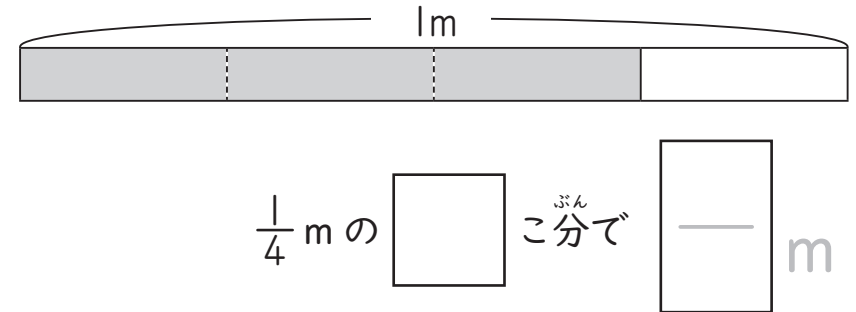


$\frac{1}{5}$ m の 2 分の長さを
「 $\frac{2}{5}$ m」と書きます。



● いろ色をぬったところのながさは何 m ですか。

① 1m を 4 等分した 3 分の長さ



② 1m を 7 等分した 4 分の長さ

